

ALLEGATO 5

BUSTA NON ESTRATTI



BUSTA A

Traccia 1

Individuare i DPI (dispositivi di protezione individuale) e descrivere le situazioni di impiego ai sensi del D.Lgs 81/08.

Traccia 2

Descrivere la differenza tra un interruttore magnetotermico e magnetotermico differenziale.

Traccia 3

Devi eseguire un intervento di manutenzione ordinaria su un A) impianto elettrico; B) Impianto idraulico; C) Su strada;

Indica le operazioni che metteresti in campo per eseguire l'intervento in sicurezza.

Traccia 4

Descrivi le modalità ed i materiali per interventi di manutenzione edilizia nei settori di viabilità (scavo stradale) ed edifici (pavimentazione, esecuzione tracciatura, tinteggiature, etc.)

Traccia 5

Il procedimento amministrativo

A large, stylized handwritten signature in black ink, located at the bottom right of the page.

ALLEGATO 6
BUSTA NON ESTRATTA

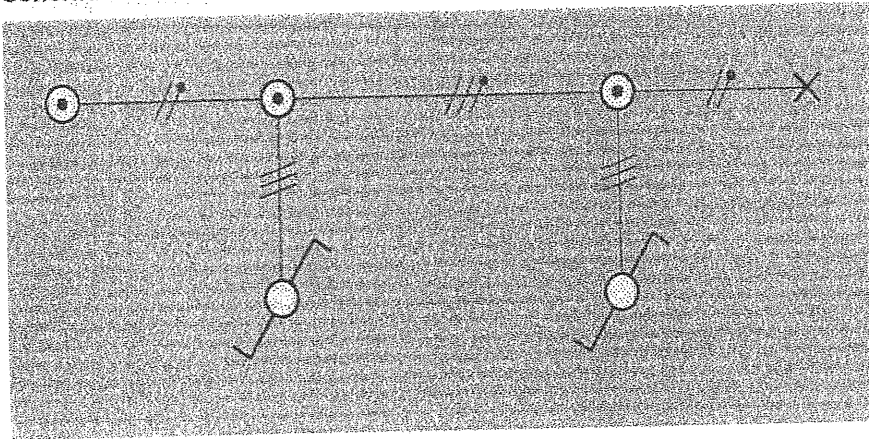


BUSTA B

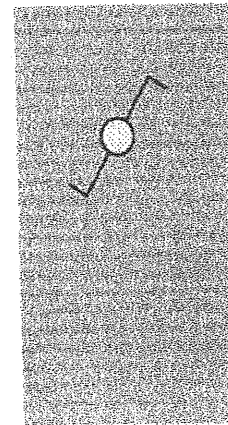
Traccia 1

Dato il seguente schema unifilare, disegnare il corrispondente schema di collegamento per il comando di una lampada a incandescenza 220V 60W indicando i componenti, il colore e la sezione dei cavi da utilizzare nel cablaggio. Descrivere il funzionamento del circuito.

Schema unifilare



Segno grafico



Traccia 2

Descrivi e commenta una scheda tecnica e di sicurezza di un prodotto ai fini preventivi dell'applicazione dello stesso

Traccia 3


Indicare e descrivere i diversi mezzi di estinzione incendi negli edifici di competenza comunale.

Traccia 4

Il candidato rappresenti con degli schemi segnaletici di un cantiere temporaneo con veicolo di lavoro accostato al marciapiede, anche con dispositivi luminosi da impiegarsi. La larghezza della carreggiata residua è maggiore o uguale a 5,6 m, tale da non richiedere l'imposizione di senso unico alternato.

Traccia 5

Le Ordinanze del Sindaco



PROVA
ESTRATTA
pe

BUSTA C

Traccia 1

Il candidato descriva la funzione e le caratteristiche principali di un impianto di terra a servizio di una palazzina

Traccia 2

Descrizione della segnaletica in materia di prevenzione incendi con riferimento a mezzi di estinzione-percorsi di esodo- individuazioni di aree critiche e significative.

Traccia 3

Descrivere principali componenti e funzionamento di un impianto di distribuzione idrica.

Traccia 4

Il candidato rappresenti con degli schemi segnaletici un cantiere temporaneo su strada urbana di quartiere e locale urbana (strada tipo E ed F del Codice della Strada e relativo regolamento di attuazione) per apertura tombini o manufatti a margine della carreggiata per lavori di durata non superiore a 2 gg.

Traccia 5

Gli Organi politici del Comune